

dysleksja

# MATERIAŁ DIAGNOSTYCZNY Z FIZYKI I ASTRONOMII

Arkusz II

**POZIOM PODSTAWOWY**

**Czas pracy 120 minut**

**Instrukcja dla ucznia**

1. Sprawdź, czy arkusz zawiera 14 ponumerowanych stron. Ewentualny brak zgłoś przewodniczącemu zespołu nadzorującego badanie.
2. Rozwiązania i odpowiedzi zapisz w miejscu na to przeznaczonym przy każdym zadaniu.
3. W rozwiązaniach zadań rachunkowych przedstaw tok rozumowania prowadzący do ostatecznego wyniku oraz pamiętaj o jednostkach.
4. Pisz czytelnie. Używaj długopisu/pióra tylko z czarnym tuszem/atramentem.
5. Nie używaj korektora, a błędne zapisy wyraźnie przekreśl.
6. Pamiętaj, że zapisy w brudnopisie nie podlegają ocenie.
7. Podczas egzaminu możesz korzystać z karty wybranych wzorów i stałych fizycznych oraz kalkulatora.
8. Wypełnij tę część karty odpowiedzi, którą koduje uczeń. Nie wpisuj żadnych znaków w części przeznaczonej dla oceniającego.
9. Na karcie odpowiedzi wpisz swoją datę urodzenia i PESEL. Zamaluj ■ pola odpowiadające cyfrom numeru PESEL. Błędne zaznaczenie otocz kółkiem ⊗ i zaznacz właściwe.

*Życzymy powodzenia!*

**ARKUSZ II**

**GRUDZIEŃ**

**ROK 2005**

Za rozwiązanie  
wszystkich zadań  
można otrzymać  
łącznie  
**50 punktów**

Wypełnia uczeń przed rozpoczęciem pracy

--	--	--	--	--	--	--	--	--	--	--	--	--	--	--	--	--	--	--	--

**PESEL UCZNI**

Wypełnia uczeń  
przed rozpoczęciem  
pracy

--	--	--

**KOD UCZNI**

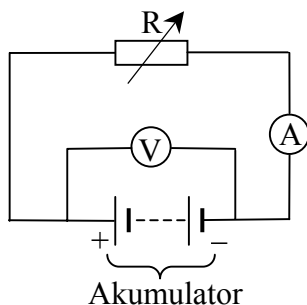






**25.3 (4 pkt)**


Podczas badania właściwości wyeksploatowanego akumulatora zastosowano układ pomiarowy przedstawiony na poniższym rysunku.



Wyniki pomiarów zamieszczono w tabeli.

$I$ [A] $\Delta I = \pm 0,5\text{A}$	5,5	9,5	13,5	18,5	24,0	26,0
$U$ [V] $\Delta U = \pm 0,5\text{V}$	12,0	10,5	8,0	6,0	3,5	1,5

Sporządź wykres zależności napięcia, jakie wskazuje woltomierz, od natężenia czerpanego z akumulatora prądu. Zaznacz niepewności pomiarowe.




**25.4 (2 pkt)**

Korzystając z wykresu:

a) wyznacz i zapisz wartość SEM,

.....  
.....

b) oblicz opór wewnętrzny akumulatora.



**Zadanie 26. Wahadła (10 pkt)**

Metalową kulkę o masie 0,1 kg zawieszono na nici o pewnej długości i wychylono z położenia równowagi. Zależność wychylenia kulki  $x$  od czasu  $t$  możemy opisać wzorem:

$$x = 0,11 \sin\left(0,8\pi t + \frac{\pi}{2}\right)$$

(Wartości liczbowe wielkości fizycznych, wyrażono w jednostkach układu SI).

**26.1 (3 pkt)**

Podaj i zapisz wartość amplitudy i fazy początkowej oraz oblicz okres drgań tego wahadła.

1. amplituda (1 pkt)

.....  
.....

2. faza początkowa (1 pkt)

.....  
.....



Obserwując dzieci huśtające się na huśtawce można zauważyć, że amplituda wahań w miarę upływu czasu stopniowo maleje.

**26.4 (3 pkt)**

Napisz, jakie trzy warunki należy spełnić, aby amplituda wahań huśtawki była stała. Przyjmij, że okres wahań wynosi 4 s.

1.

.....  
.....  
.....

2.

.....  
.....  
.....

3.

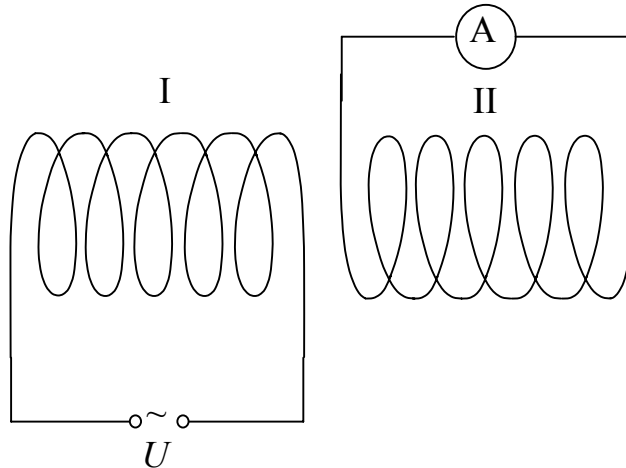
.....  
.....



**Zadanie 27. Transformator (10 pkt)**

**27.1 (2 pkt)**

Podczas wykonywania doświadczenia w szkole uczniowie stwierdzili, że w czasie przepływu prądu przemiennego w cewce (zwojnicy) pierwszej (I) dołączonej do źródła napięcia przemiennego o wartości skutecznej  $U = 9\text{ V}$ , w amperomierzu dołączonym do drugiej cewki (II) płynie prąd.



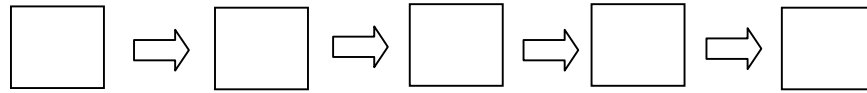
a) Podaj i zapisz nazwę zjawiska, które powoduje przepływ prądu elektrycznego w drugim obwodzie. (1 pkt)

.....  
.....



b) Poniżej wymieniono zjawiska (oznaczone literami od A do E), zachodzące w układzie przedstawionym na rysunku. Wpisz je do diagramu we właściwej kolejności (w pola wpisz litery odpowiadające zjawiskom). (1 pkt)

- A. wytworzenie zmiennego pola magnetycznego,
- B. przepływ prądu przez amperomierz,
- C. przepływ prądu przez cewkę I,
- D. wytworzenie zmiennego strumienia pola magnetycznego,
- E. wytworzenie siły elektromotorycznej indukcji w obwodzie drugim.



**27.2 (2 pkt)**

Uczniowie mieli do dyspozycji jednakowej wielkości rdzenie (w kształcie walca, o wymiarach zbliżonych do wymiarów zwojnicy) wykonane z aluminium, żelaza i miedzi. Zapisz, który z tych rdzeni po wsunięciu do wnętrza obu cewek jest w stanie, w znaczący sposób, zmienić natężenie prądu płynącego przez amperomierz. Podaj nazwę własności magnetycznych materiału, z którego wykonany jest ten rdzeń.

.....

.....

.....

**27.3 (2 pkt)**

Końce cewki (II) zostały rozwarte. Napisz, jaką liczbę zwojów powinna mieć cewka (II) w porównaniu z liczbą zwojów jaką posiada cewka (I), aby wartość napięcia na końcach cewki II była większa od wartości napięcia na końcach cewki I. Odpowiedź uzasadnij.

.....

.....

.....

.....

**27.4 (2 pkt)**

Uczniowie pierwszą cewkę podłączyli do baterii o napięciu  $U = 4,5$  V. Napisz, co zauważą uczniowie obserwując amperomierz dołączony do drugiej cewki. Odpowiedź uzasadnij.

.....

.....

.....

.....

.....



**Zadanie 28. Kulka w cieczy (10 pkt)**

Podczas ruchu ciał w płynach (cieczach lub gazach) występuje zjawisko lepkości. Powoduje ono występowanie siły oporu, której wartość w przypadku laminarnego (opływowego) ruchu kulki można wyrazić wzorem

$$F = 6\pi \cdot r \cdot \eta \cdot v \quad \text{gdzie: } r \text{ – promień kulki}$$


$v$  – prędkość opadania,

$\eta$  – współczynnik lepkości charakterystyczny dla danej cieczy

**28.1 (4 pkt)**

Jednorodną metalową kulkę o promieniu 1 cm zawieszono na cienkiej nici i zanurzono całkowicie w wodzie w głębokim naczyniu.

Narysuj, **uwzględniając odpowiednie długości wektorów** i nazwij siły działające na kulkę w sytuacji:




a) gdy pozostawała nieruchoma. (2 pkt)    b) w chwilę po przepaleniu nitki (2 pkt)

**28.2 (3 pkt)**

W tabeli obok podano wartości lepkości wody dla różnych temperatur. Wykaż, że maksymalna wartość prędkości opadania kulki będzie największa w wodzie o temperaturze 25 °C. Zmiany gęstości wody związane ze zmianami temperatury pomini. Odpowiedź uzasadnij, zapisując odpowiednie zależności.


Temperatura wody w °C	Lepkość w $10^{-3} Pa \cdot s$
5	1,519
10	1,307
15	1,140
20	1,002
25	0,891

Źródło: Tablice fizyczno-astronomiczne Wydawnictwo Adamantan



**28.3 (3 pkt)**

Wyprowadź zależność pozwalającą obliczyć wartość maksymalnej prędkości z jaką opada w cieczy metalowa kulka. Załóż, że dane są: promień kulki, współczynnik lepkości oraz gęstość metalu i cieczy.



## **BRUDNOPIS**

## **BRUDNOPIS**