

Miejsce
na naklejkę
z kodem szkoły

dysleksja

MFA-R1A1P-061

EGZAMIN MATURALNY Z FIZYKI I ASTRONOMII

Arkusz II

POZIOM ROZSZERZONY

Czas pracy 120 minut

ARKUSZ II

STYCZEŃ
ROK 2006

Instrukcja dla zdającego

1. Sprawdź, czy arkusz egzaminacyjny zawiera 11 stron. Ewentualny brak zgłoś przewodniczącemu zespołu nadzorującego egzamin.
2. Rozwiązania i odpowiedzi zapisz w miejscu na to przeznaczonym przy każdym zadaniu.
3. W rozwiązaniach zadań rachunkowych przedstaw tok rozumowania prowadzący do ostatecznego wyniku oraz pamiętaj o jednostkach.
4. Pisz czytelnie. Używaj długopisu/pióra tylko z czarnym tuszem/atramentem.
5. Nie używaj korektora, a błędne zapisy wyraźnie przekreśl.
6. Pamiętaj, że zapisy w brudnopisie nie podlegają ocenie.
7. Podczas egzaminu możesz korzystać z karty wybranych wzorów i stałych fizycznych oraz kalkulatora.
8. Wypełnij tę część karty odpowiedzi, którą koduje zdający. Nie wpisuj żadnych znaków w części przeznaczonej dla egzaminatora.
9. Na karcie odpowiedzi wpisz swoją datę urodzenia i PESEL. Zamaluj pola odpowiadające cyfrom numeru PESEL. Błędne zaznaczenie otocz kółkiem i zaznacz właściwe.

Za rozwiązanie
wszystkich zadań
można otrzymać
łącznie
50 punktów

Życzymy powodzenia!

Wypełnia zdający przed
rozpoczęciem pracy

--	--	--	--	--	--	--	--	--	--	--


PESEL ZDAJĄCEGO

--	--	--


KOD
ZDAJĄCEGO

25.2 (2 pkt)


Wykaż, że ciśnienie powietrza wewnątrz słoika po jego ostygnięciu do temperatury otoczenia równej $T_0 = 20^\circ\text{C}$ wynosi około 795 hPa.

**25.3 (2 pkt)**

Oblicz, z jaką siłą po ostygnięciu słoika (nie bierz pod uwagę siły wynikającej z dokręcenia pokrywki) pokrywka jest dociskana do słoika, jeśli jej średnica jest równa $d = 8$ cm.

**25.4 (3 pkt)**

Podczas morskiej wycieczki częściowo opróżniony słoik, (ale zamknięty pokrywką) potoczył się po pokładzie i wpadł do wody. Oblicz, jaka musi być minimalna masa m przetworów w słoiku, aby po wpadnięciu do wody morskiej zaczął tonąć. Masa pustego słoika z zakrętką wynosi $M = 0,25$ kg, a jego objętość zewnętrzna $V = 1,5$ dm³. Przyjmij gęstość wody morskiej przy powierzchni za równą $\rho_w = 1025$ kg/m³. Pomiń wpływ masy powietrza zamkniętego w słoiku na masę całego słoika.



Zadanie 28. Sonda Pioneer (9 pkt)

Pod koniec kwietnia wielki radioteleskop w Madrycie wykrył słaby sygnał sztucznego pochodzenia z kierunku konstelacji Byka. To nie kosmici. Odezwała się sonda Pioneer 10, która z niewiadomych przyczyn milczała, od ośmiu miesięcy. [...]


Sygnał miał moc słabszą niż miliardowa (10^{-9}) część bilionowej (10^{-12}) części wata. Leciał do Ziemi prawie 11 godzin. To dlatego, że Pioneer 10 zawędrował już bardzo daleko - jest dziś w odległości dwa razy większej od Słońca niż planeta Pluton, czyli ok. 11,2 mld km. [...]

Teraz Pioneer 10 leci z prędkością 13 km/s w kierunku czerwonej gwiazdy Aldebaran w konstelacji Byka, która jest oddalona o 71 lat świetlnych i 155 razy jaśniejsza niż nasze Słońce. Sonda zmaga się tylko z upływem czasu. - Nasza gwarancja skończyła się już po 21 miesiącach, a dziś upływa 28. rok działania sondy - mówi szef misji Larry Lasher z NASA. Pioneer 10 jest zasilany przez radioaktywny pluton-238. Rozpad plutonu generuje ciepło, zamieniane potem na elektryczność. Pluton wprawdzie rozpada się dość wolno - połowa paliwa znika po 92 latach, ale szybciej ulegają degradacji elementy, które przekształcają ciepło w prąd elektryczny....

(na podstawie: Piotr Cieśliński, Wieści z daleka. Gazeta Wyborcza 4 maja 2001 r.)

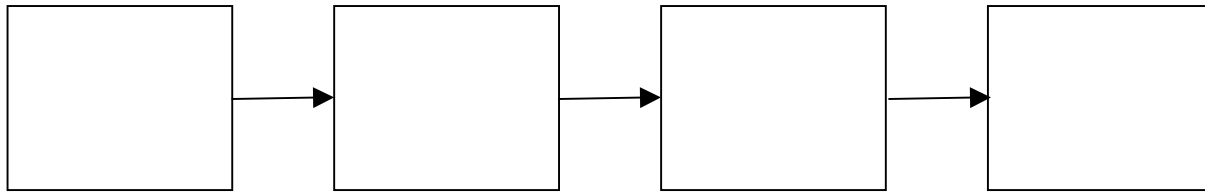
28.1 (4 pkt)

Oszacuj czas (w latach) potrzebny na dotarcie sondy z Ziemi w pobliże orbity Plutona oraz czas podróży w pobliże gwiazdy Aldebaran. Odpowiedź uzasadnij obliczeniami. Przyjmij, że wartość prędkości sondy jest stała.




28.2 (1 pkt)

Poniższy diagram ma przedstawiać ciąg przemian energetycznych związanych z wysłaniem informacji przez sondę *Pioneer 10*. Uzupełnij diagram, wpisując w puste ramki rodzaj energii.


**28.3 (4 pkt)**

Stosowany do zasilania sondy *Pioneer 10* izotop promieniotwórczy $^{238}_{94}\text{Pu}$ rozpada się na $^{234}_{92}\text{U}$. Z kolei uran rozpada się na $^{230}_{90}\text{Th}$ (czas połowicznego rozpadu uranu około $2,5 \cdot 10^5$ lat). Energie wydzielane w tych dwóch przemianach promieniotwórczych nie różnią się znacząco. Uran mógłby więc stanowić nowe źródło energii.

- a) Jaka cząstka wyzwala się w czasie rozpadu plutonu, a jaka w czasie rozpadu uranu? Zapisz te reakcje. **(1 pkt)**



- b) Oszacuj stosunek mocy wydzielanej przez próbki plutonu – 238 i uranu – 234, zawierające takie same liczby jąder. Czy powstający na pokładzie *Pioneera 10* uran mógłby stanowić dla sondy nowe wydajne źródło energii? Odpowiedź uzasadnij. **(3 pkt)**



BRUDNOPIS